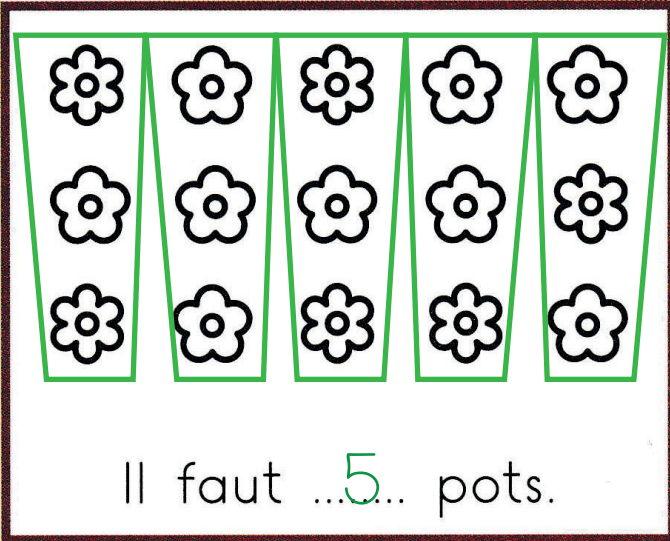


63 Résoudre des problèmes de partage


✓ Je résous des problèmes de partage.

On met 3 fleurs dans chaque pot.

1 Écris le nombre de pots dont on a besoin.



Il faut ...5... pots.

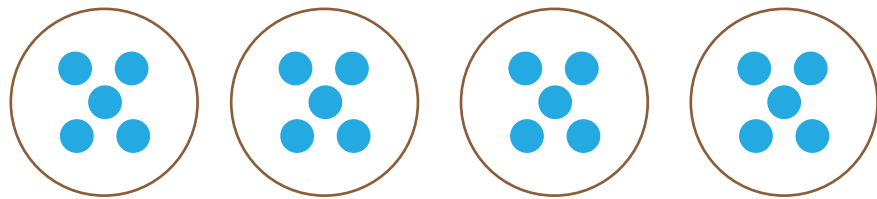


Il faut ...4... pots.

Les enfants de la classe de CE1 veulent planter 20 fleurs dans 4 pots. Ils veulent en avoir autant dans chaque pot.

2 Combien y aura-t-il de fleurs dans chaque pot?


Je cherche.






Je réponds.

Il y aura 5 fleurs dans chaque pot.

Sami a compté de 10 en 10. Domino a effacé quelques nombres. Retrouve-les.



8	18		38		58		78		
		↓		↓		↓		↓	↓
		28		48		68		88	98